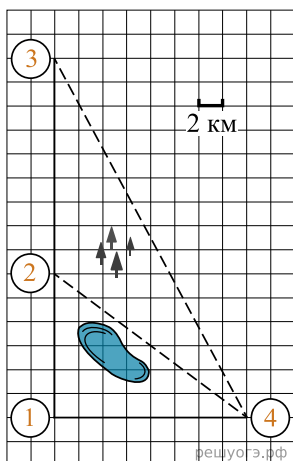


Гриша летом отдыхает у бабушки в деревне Ушаково. В субботу они собираются съездить на машине в село Бережки. Из Ушакова в Бережки можно проехать по прямой грунтовой дороге. Есть более длинный путь по шоссе — через деревню Дубенки до деревни Афонино, где нужно повернуть под прямым углом налево на другое шоссе, ведущее в Бережки. Есть и третий маршрут: в деревне Дубенки можно свернуть на прямую грунтовую дорогу, которая идет мимо озера прямо в село Бережки.

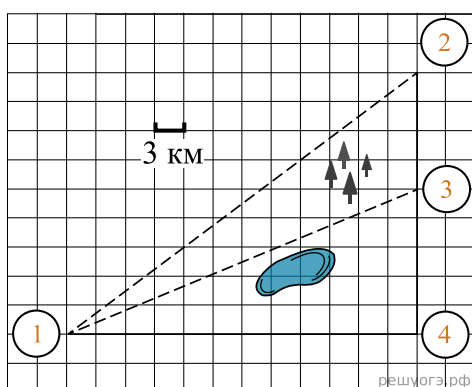
По шоссе Гриша с бабушкой едут со скоростью 60 км/ч, а по грунтовой дороге — 50 км/ч. На плане изображено взаимное расположение населенных пунктов, сторона каждой клетки равна 2 км.



1. Найдите расстояние от деревни Ушаково до села Бережки по прямой. Ответ выразите в километрах.

Настя летом отдыхает у бабушки в деревне Александровке. В воскресенье они собираются съездить на машине в село Фомино. Из Александровки в Фомино можно проехать по прямой грунтовой дороге. Есть более длинный путь по шоссе — через деревню Новомальцево до деревни Парахино, где нужно повернуть под прямым углом направо на другое шоссе, ведущее в Фомино. Есть и третий маршрут: в Новомальцево можно свернуть на прямую грунтовую дорогу, которая идет мимо озера прямо в Фомино.

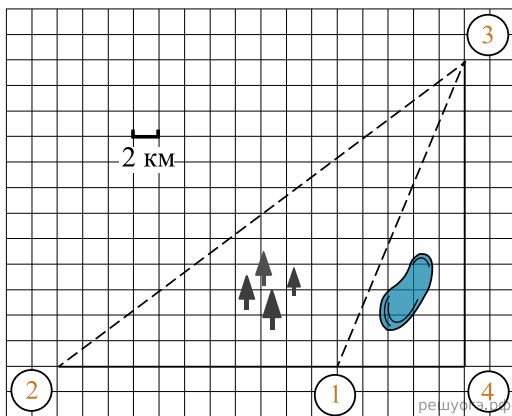
По шоссе Настя с бабушкой едут со скоростью 60 км/ч, а по грунтовой дороге — 50 км/ч. На плане изображено взаимное расположение населенных пунктов, сторона каждой клетки равна 3 км.



2. Найдите расстояние от деревни Александровки до села Фомино по прямой. Ответ выразите в километрах.

Гена летом отдыхает у дедушки в деревне Осинки. В воскресенье они собираются съездить на машине в село Кудрино. Из деревни Осинки в Кудрино можно проехать по прямой грунтовой дороге. Есть более длинный путь по шоссе — через деревню Илькино до деревни Кулаки, где нужно повернуть под прямым углом налево на другое шоссе, ведущее в Кудрино. Есть и третий маршрут: в Илькине можно свернуть на прямую грунтовую дорогу, которая идет мимо озера прямо в Кудрино.

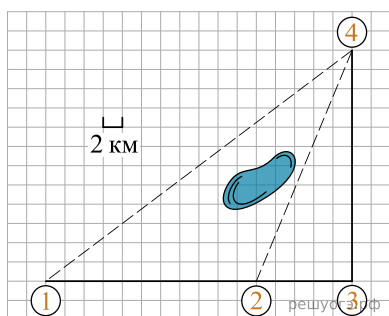
По шоссе Гена с дедушкой едут со скоростью 60 км/ч, а по грунтовой дороге — 40 км/ч. На плане изображено взаимное расположение населенных пунктов, сторона каждой клетки равна 2 км.



3. Найдите расстояние от деревни Осинки до села Кудрино по прямой. Ответ выразите в километрах.

Полина летом отдыхает у дедушки в деревне Ясная. В четверг они собираются съездить на велосипедах в село Майское в магазин. Из деревни Ясная в село Майское можно проехать по прямой лесной дорожке. Есть более длинный путь: по прямолинейному шоссе через деревню Камышевка до деревни Хомяково, где нужно повернуть под прямым углом налево на другое шоссе, ведущее в село Майское. Есть и третий маршрут: в деревне Камышевка можно свернуть на прямую тропинку в село Майское, которая идет мимо пруда.

Лесная дорожка и тропинка образуют с шоссе прямоугольные треугольники.



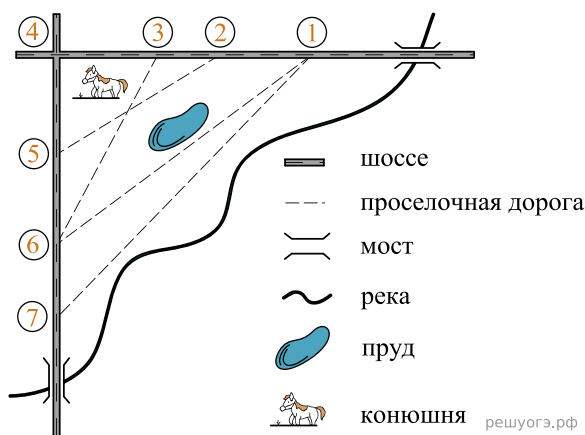
По шоссе Полина с дедушкой едут со скоростью 20 км/ч, а по лесной дорожке и тропинке — со скоростью 15 км/ч. На плане изображено взаимное расположение населенных пунктов, длина стороны каждой клетки равна 2 км.

4. Найдите расстояние от деревни Ясная до села Майское по прямой. Ответ дайте в километрах.

На рисунке изображен план сельской местности.

Таня на летних каникулах приезжает в гости к дедушке в деревню Антоновка (на плане обозначена цифрой 1). В конце каникул дедушка на машине собирается отвезти Таню на автобусную станцию, которая находится в деревне Богданово. Из Антоновки в Богданово можно проехать по проселочной дороге мимо реки. Есть другой путь — по шоссе до деревни Ванютино, где нужно повернуть под прямым углом налево на другое шоссе, ведущее в Богданово. Третий маршрут проходит по проселочной дороге мимо пруда до деревни Горюново, где можно свернуть на шоссе до Богданово. Четвертый маршрут пролегает по шоссе до деревни Доломино, от Доломино до Горюново по проселочной дороге мимо конюшни и от Горюново до Богданово по шоссе. Еще один маршрут проходит по шоссе до деревни Егорка, по проселочной дороге мимо конюшни от Егорки до Жилино и по шоссе от Жилино до Богданово.

Шоссе и проселочные дороги образуют прямоугольные треугольники.



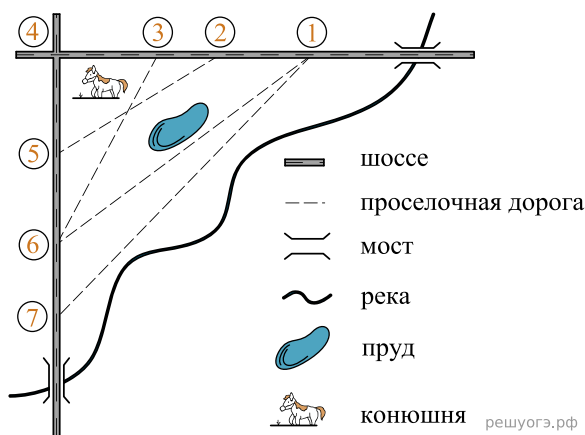
По шоссе Таня с дедушкой едут со скоростью 50 км/ч, а по проселочным дорогам — со скоростью 30 км/ч. Расстояние от Антоновки до Доломино равно 12 км, от Доломино до Егорки — 4 км, от Егорки до Ванютино — 12 км, от Горюново до Ванютино — 15 км, от Ванютино до Жилино — 9 км, а от Жилино до Богданово — 12 км.

5. Найдите расстояние от Егорки до Жилино по прямой. Ответ дайте в километрах.

На рисунке изображен план сельской местности.

Таня на летних каникулах приезжает в гости к дедушке в деревню Антоновку (на плане обозначена цифрой 1). В конце каникул дедушка на машине собирается отвезти Таню на автобусную станцию, которая находится в деревне Богданово. Из Антоновки в Богданово можно проехать по проселочной дороге вдоль реки. Есть другой путь — по шоссе до деревни Ванютино, где нужно повернуть под прямым углом налево на другое шоссе, ведущее в Богданово. Третий маршрут проходит по проселочной дороге мимо пруда до деревни Горюново, где можно свернуть на шоссе до Богданово. Четвертый маршрут пролегает по шоссе до деревни Доломино, от Доломино до Горюново по проселочной дороге мимо конюшни и от Горюново до Богданово по шоссе. Еще один маршрут проходит по шоссе до деревни Егорки, по проселочной дороге мимо конюшни от Егорки до Жилино и по шоссе от Жилино до Богданово.

Шоссе и проселочные дороги образуют прямоугольные треугольники.



По шоссе Таня с дедушкой едут со скоростью 50 км/ч, а по проселочным дорогам — со скоростью 30 км/ч. Расстояние от Антоновки до Доломино равно 12 км, от Доломино до Егорки — 4 км, от Егорки до Ванютино — 12 км, от Горюново до Ванютино — 15 км, от Ванютино до Жилино — 9 км, а от Жилино до Богданово 12 км.

6. Найдите расстояние от Антоновки до Богданово по прямой. Ответ дайте в километрах.