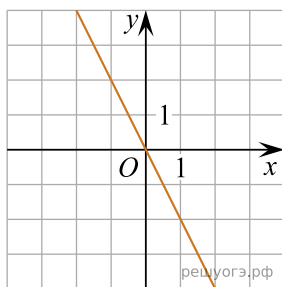


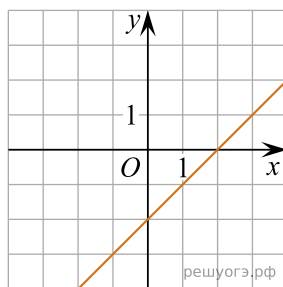
Установите соответствие между графиками функций и формулами, которые их задают.

### Графики

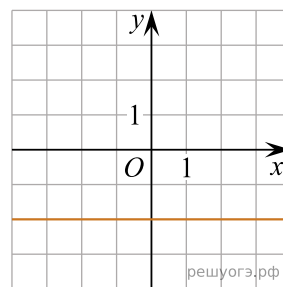
А)



Б)



В)



### Формулы

1)  $y = -2$     2)  $y = x - 2$     3)  $y = -2x$

В таблице под каждой буквой укажите соответствующий номер.

А	Б	В