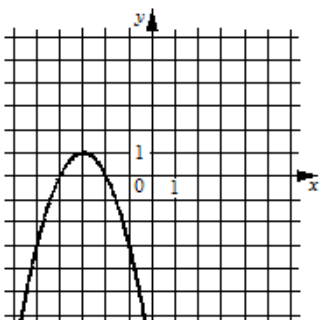


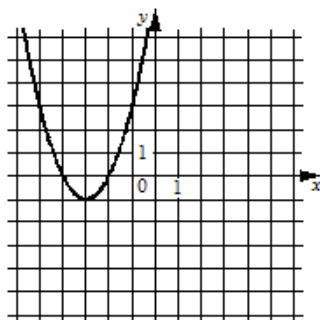
Установите соответствие между графиками функций и формулами, которые их задают.

ГРАФИКИ

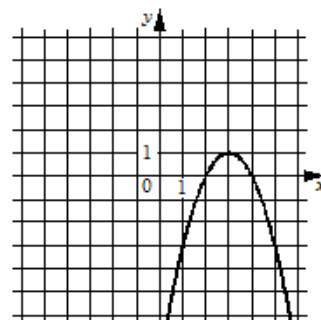
А)



Б)



В)



ФОРМУЛЫ

1) $y = -x^2 + 6x - 8$

2) $y = x^2 + 6x + 8$

3) $y = -x^2 - 6x - 8$