

Установите соответствие между функциями и их графиками.

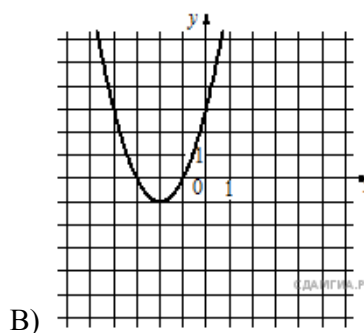
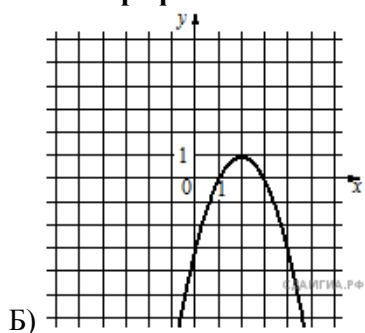
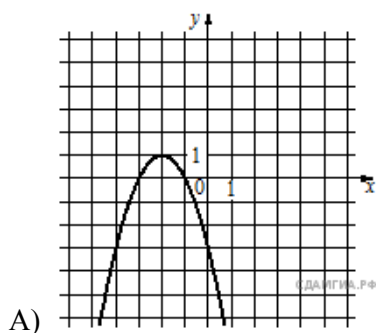
Функции

1) $y = -x^2 - 4x - 3$

2) $y = -x^2 + 4x - 3$

3) $y = x^2 + 4x + 3$

Графики



Запишите в ответ цифры, расположив их в порядке, соответствующем буквам:

А	Б	В