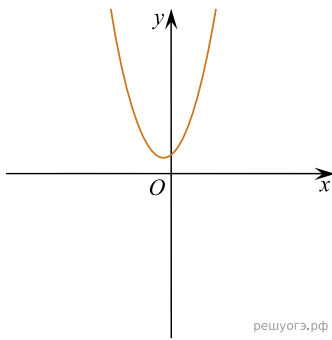


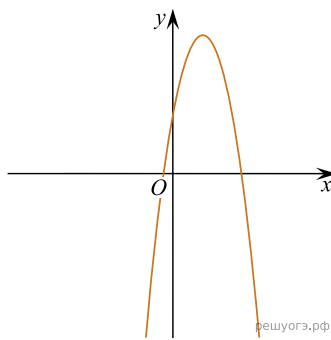
На рисунке изображены графики функций вида $y = ax^2 + bx + c$. Установите соответствие между графиками функций и знаками коэффициентов a и c .

ГРАФИКИ

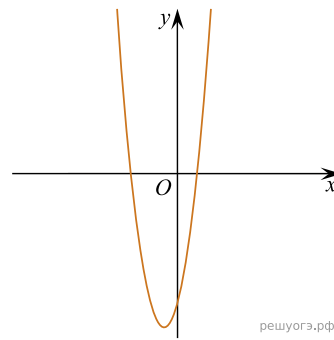
А)



Б)



В)



КОЭФФИЦИЕНТЫ

- 1) $a > 0, c < 0$
- 2) $a > 0, c > 0$
- 3) $a < 0, c > 0$

В таблице под каждой буквой укажите соответствующий номер.

А	Б	В