

Установите соответствие между функциями и их графиками.

ФУНКЦИИ

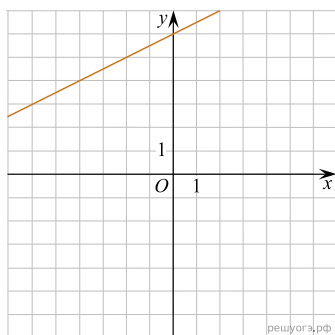
А) $y = 4x^2 + 4x - 3$

Б) $y = \frac{1}{2}x + 6$

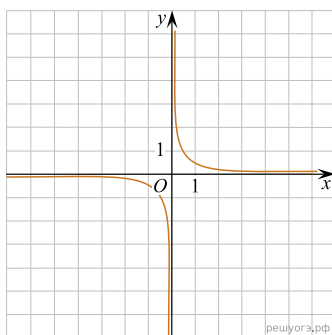
В) $y = \frac{1}{2x}$

ГРАФИКИ

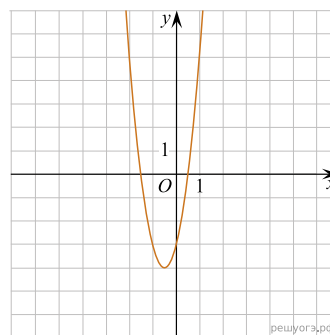
1)



2)



3)



Запишите в ответ цифры, расположив их в порядке, соответствующем буквам:

А	Б	В