

Установите соответствие между графиками функций и формулами, которые их задают.

### Формулы

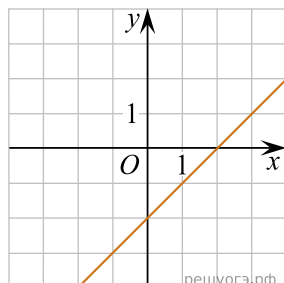
1)  $y = -x$

2)  $y = -1$

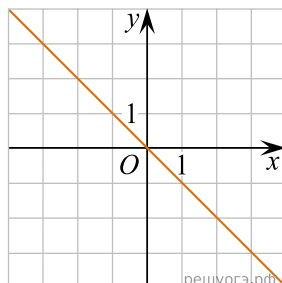
3)  $y = x - 2$

### Графики

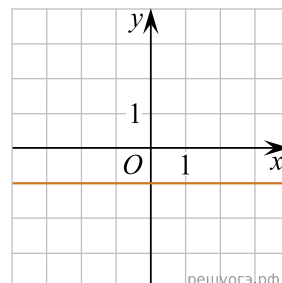
А)



Б)



В)



Запишите в ответ цифры, расположив их в порядке, соответствующем буквам:

А	Б	В