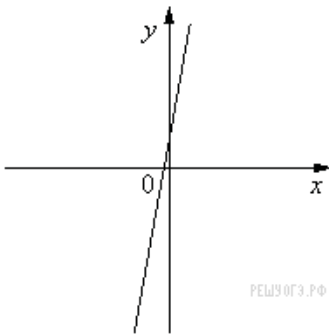


На рисунке изображены графики функций вида  $y = kx + b$ . Установите соответствие между графиками функций и знаками коэффициентов  $k$  и  $b$ .

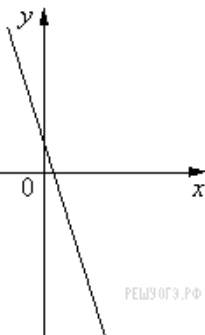
ГРАФИКИ

А)



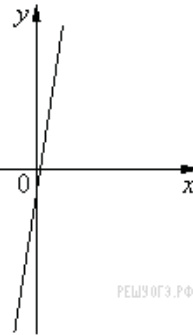
РЕШУ ОГЭ.РФ

Б)



РЕШУ ОГЭ.РФ

В)



РЕШУ ОГЭ.РФ

КОЭФФИЦИЕНТЫ

1)  $k < 0, b > 0$

2)  $k > 0, b > 0$

3)  $k < 0, b < 0$

4)  $k > 0, b < 0$