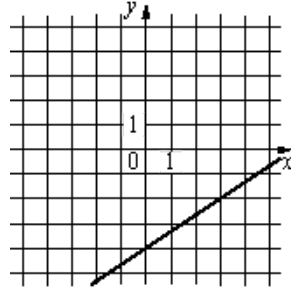
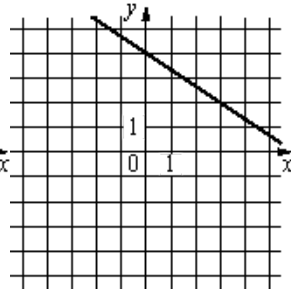
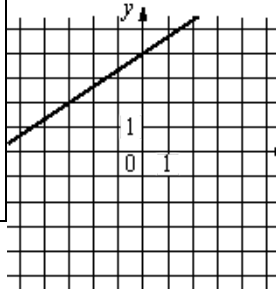


Установите соответствие между графиками функций и формулами, которые их задают. Впишите в приведенную в ответе таблицу под каждой буквой соответствующую цифру.



ГРАФИКИ			
А)	Б)	В)	
ФУНКЦИИ			
1) $y = 2,3x - 4$	2) $y = 2,3x + 4$	3) $y = 2,3x - 4$	4) $y = 2,3x + 4$