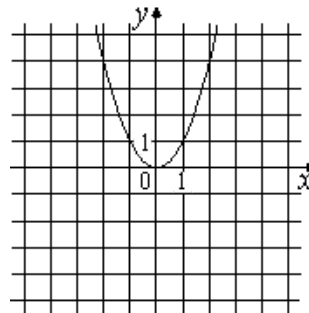
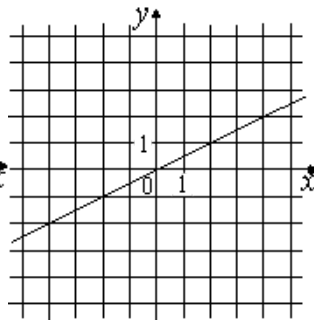
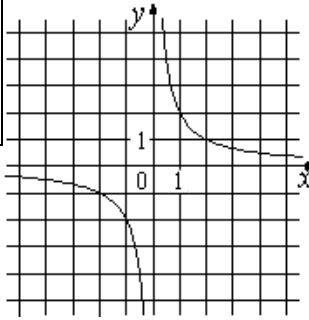


Установите соответствие между графиками функций и формулами, которые их задают.



А)	Б)	В)
$y = x^2$	$y = x^2 + 1$	$y = x$
$y = 2 - x$	$y = 2x$	$y = x^2 + 2x$