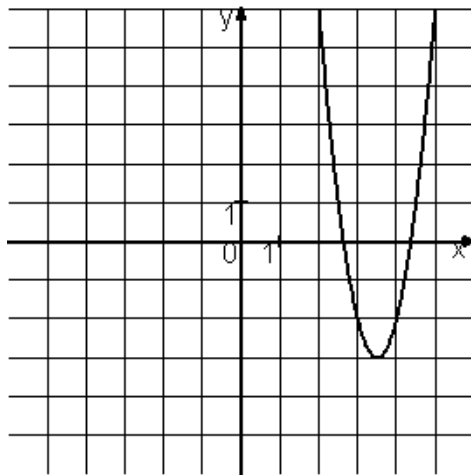
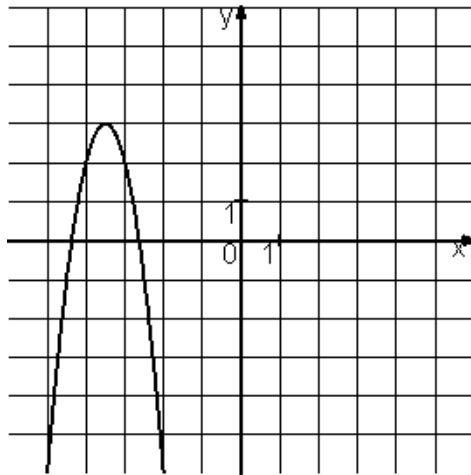
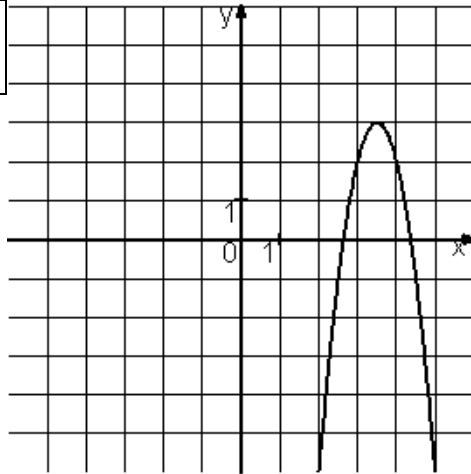


Установите соответствие между графиками функций и формулами, которые их задают.



ФУНКЦИИ		ГРАФИКИ	
А)	$y = -4x^2 - 28x - 46$	1)	
Б)	$y = 4x^2 - 28x + 46$	2)	
В)	$y = -4x^2 + 28x - 46$	3)	
		4)	

