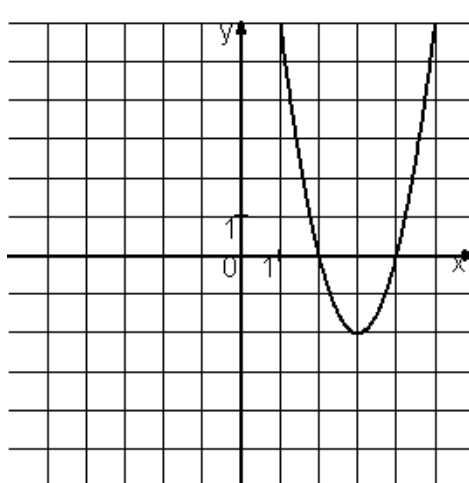
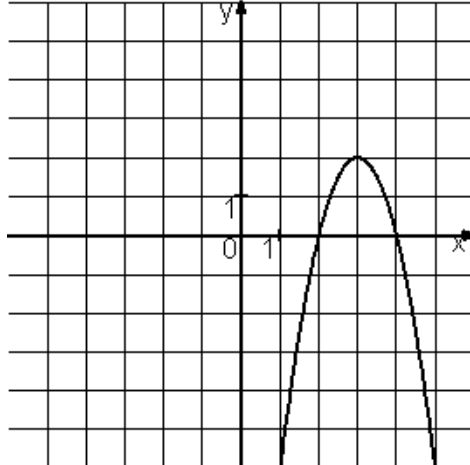
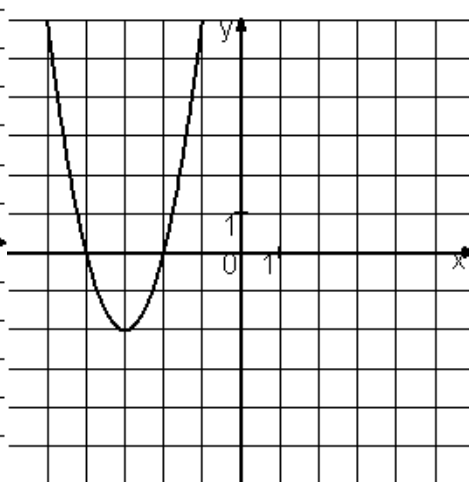
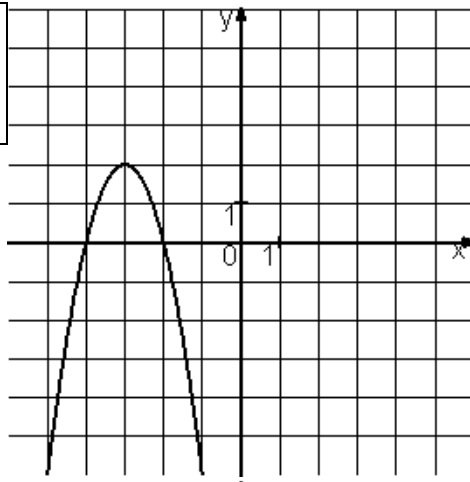


Установите соответствие между графиками функций и формулами, которые их задают.



| ФУНКЦИИ |                        | ГРАФИКИ |  |
|---------|------------------------|---------|--|
| А)      | $y = -2x^2 + 12x - 16$ | 1)      |  |
| Б)      | $y = 2x^2 - 12x + 16$  | 2)      |  |
| В)      | $y = 2x^2 + 12x + 16$  | 3)      |  |
|         |                        | 4)      |  |