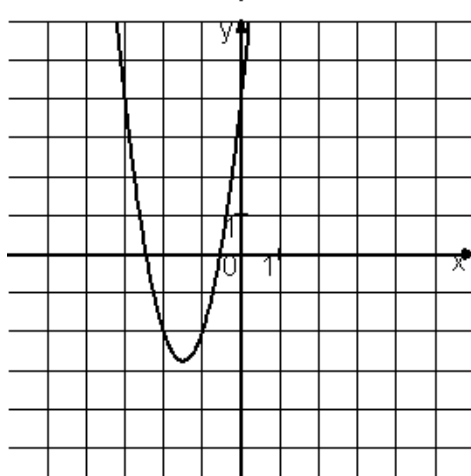
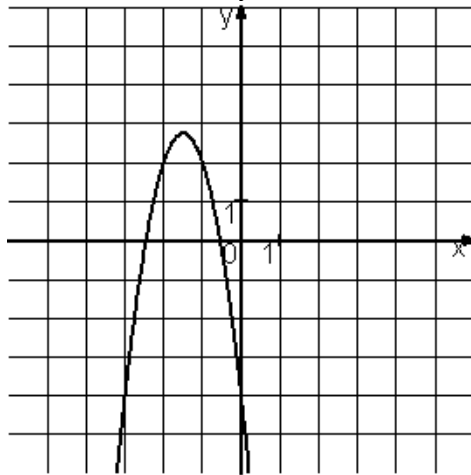
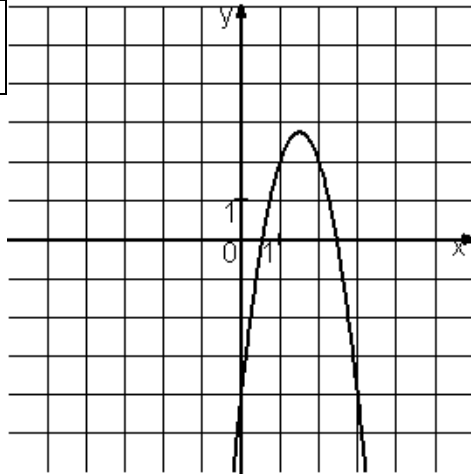


Установите соответствие между графиками функций и формулами, которые их задают.



ГРАФИКИ		ФОРМУЛЫ	
А)	<input type="checkbox"/>	1)	$y = 3x^2 - 9x + 4$
Б)	<input type="checkbox"/>	2)	$y = -3x^2 + 9x - 4$
В)	<input type="checkbox"/>	3)	$y = -3x^2 - 9x - 4$
		4)	$y = 3x^2 + 9x + 4$