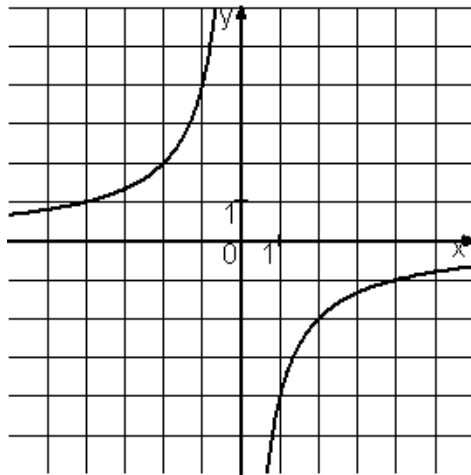
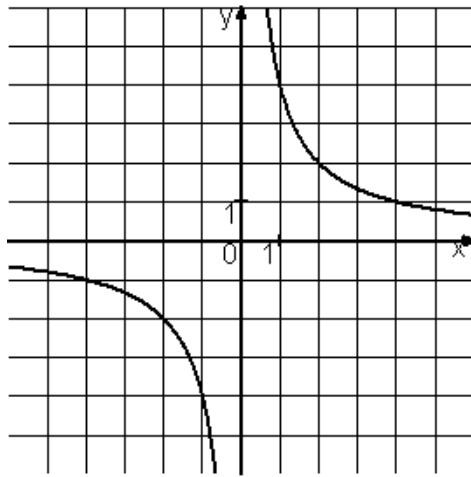
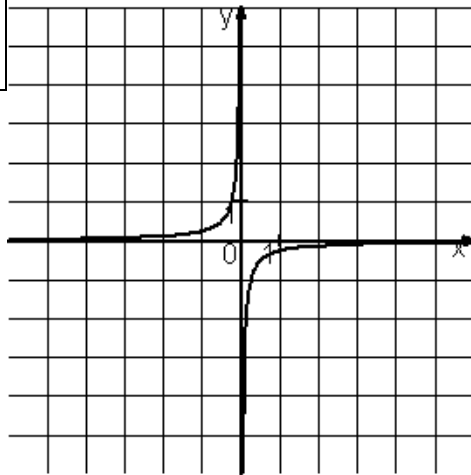


Установите соответствие между графиками функций и формулами, которые их задают.



ГРАФИКИ		ФОРМУЛЫ	
А)	<input type="checkbox"/>	1)	$y = -1/4x$
Б)	<input type="checkbox"/>	2)	$y = 4x$
В)	<input type="checkbox"/>	3)	$y = -4x$
		4)	$y = 1/4x$