

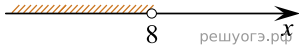
Решите систему неравенств

$$\begin{cases} -35 + 5x < 0, \\ 6 - 3x > -18. \end{cases}$$

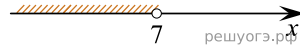
На каком рисунке изображено множество ее решений?

В ответе укажите номер правильного варианта.


1)



2)



3)



4)

