
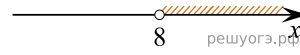


Решите систему неравенств $\begin{cases} -35+5x>0, \\ 6-3x<-18. \end{cases}$
На каком рисунке изображено множество ее решений?

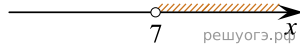
1)



2)



3)



4)

