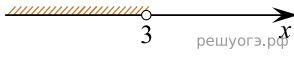
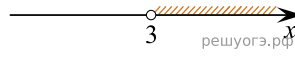


Решите систему неравенств  $\{-35+5x < 0, 6-3x > -3\}$ .  
 На каком рисунке изображено множество ее решений?

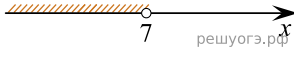
1)



2)



3)



4)

