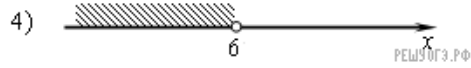
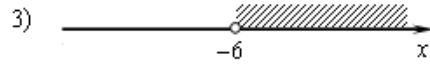
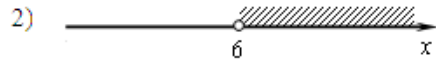
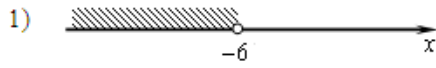


Решите неравенство $3 - 4x > 11 - 8(x - 2)$ и определите, на каком рисунке изображено множество его решений.

В ответе укажите номер правильного варианта.



РЕШУ ОГЭ.РФ