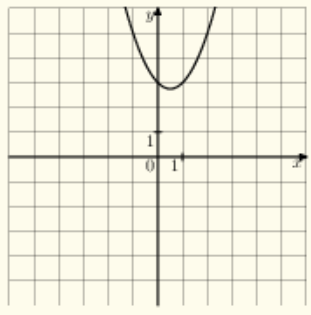
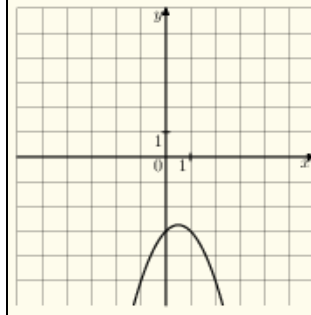
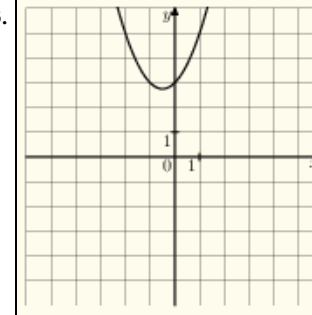
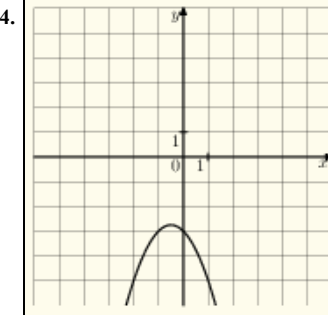


На одном из рисунков изображен график функции $y = -x^2 + x - 3$. Укажите номер этого рисунка.

Варианты ответа

<p>1.</p> 	<p>2.</p> 	<p>3.</p> 	<p>4.</p> 
---	---	--	---