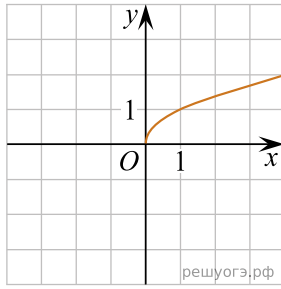
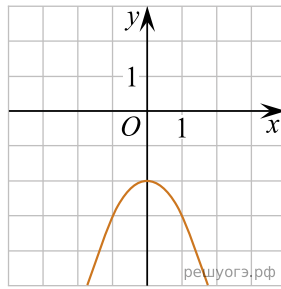


Установите соответствие между графиками функций и формулами, которые их задают.

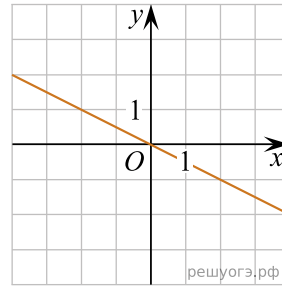
А)



Б)



В)



- 1) $y = -\frac{1}{2}x$
- 2) $y = -\frac{1}{x}$
- 3) $y = -x^2 - 2$
- 4) $y = \sqrt{x}$

Ответ укажите в виде последовательности цифр без пробелов и запятых в указанном порядке

А	Б	В