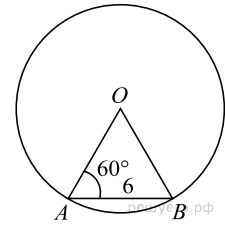
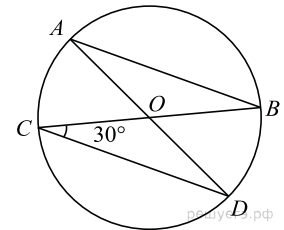


Центральные и вписанные углы

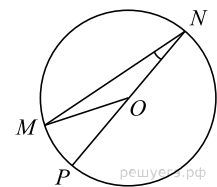
1. Центральный угол AOB опирается на хорду AB длиной 6. При этом угол OAB равен 60° . Найдите радиус окружности.



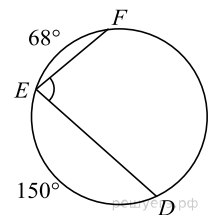
2. В окружности с центром в точке O проведены диаметры AD и BC , угол OCD равен 30° . Найдите величину угла OAB .



3. Найдите градусную меру центрального $\angle MON$, если известно, NP — диаметр, а градусная мера $\angle MNP$ равна 18° .

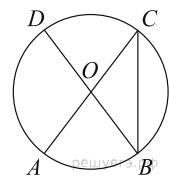


4. Найдите $\angle DEF$, если градусные меры дуг DE и EF равны 150° и 68° соответственно.

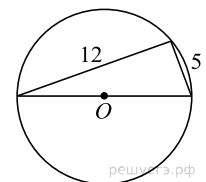


5. Найдите градусную меру $\angle ACB$, если известно, что BC является диаметром окружности, а градусная мера центрального $\angle AOC$ равна 96° .

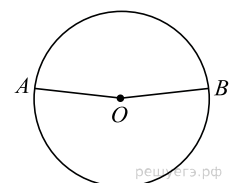
6. В окружности с центром O AC и BD — диаметры. Угол ACB равен 26° . Найдите угол AOD . Ответ дайте в градусах.



7. Прямоугольный треугольник с катетами 5 см и 12 см вписан в окружность. Чему равен радиус этой окружности?

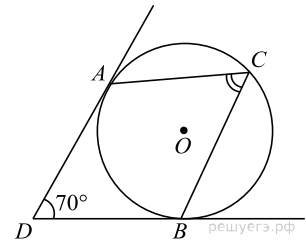


8. Точки A и B делят окружность на две дуги, длины которых относятся как 9:11. Найдите величину центрального угла, опирающегося на меньшую из дуг. Ответ дайте в градусах.



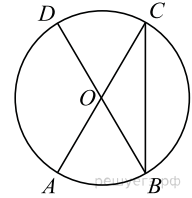
9.

В угол величиной 70° вписана окружность, которая касается его сторон в точках A и B . На одной из дуг этой окружности выбрали точку C так, как показано на рисунке. Найдите величину угла ACB .



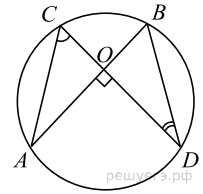
10.

Величина центрального угла AOD равна 110° . Найдите величину вписанного угла ACB . Ответ дайте в градусах.



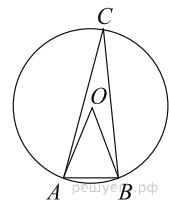
11.

Точки A, B, C и D лежат на одной окружности так, что хорды AB и CD взаимно перпендикулярны, а $\angle BDC = 25^\circ$. Найдите величину угла ACD .



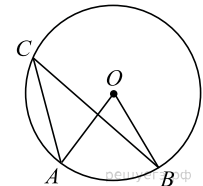
12.

Треугольник ABC вписан в окружность с центром в точке O . Найдите градусную меру угла C треугольника ABC , если угол AOB равен 48° .



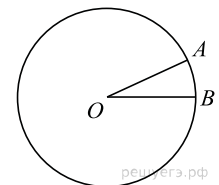
13.

Точка O — центр окружности, $\angle AOB = 84^\circ$ (см. рисунок). Найдите величину угла ACB (в градусах).



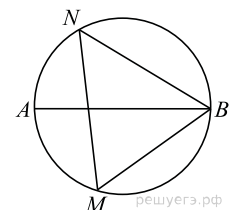
14.

На окружности с центром O отмечены точки A и B так, что $\angle AOB = 28^\circ$. Длина меньшей дуги AB равна 63. Найдите длину большей дуги.



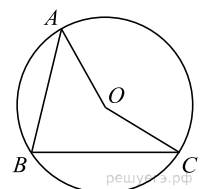
15.

На окружности по разные стороны от диаметра AB взяты точки M и N . Известно, что $\angle NBA = 38^\circ$. Найдите угол NMB . Ответ дайте в градусах.




16.

Точка O — центр окружности, на которой лежат точки A, B и C . Известно, что $\angle ABC = 15^\circ$ и $\angle OAB = 8^\circ$. Найдите угол BCO . Ответ дайте в градусах.



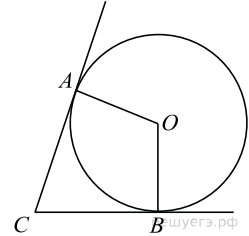
17.

AC и BD — диаметры окружности с центром O . Угол ACB равен 79° . Найдите угол AOD . Ответ дайте в градусах.

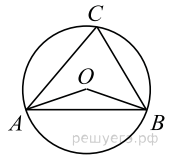


18.

В угол C величиной 83° вписана окружность, которая касается сторон угла в точках A и B . Найдите угол AOB . Ответ дайте в градусах.

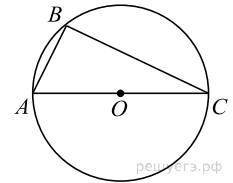


19. Треугольник ABC вписан в окружность с центром в точке O . Найдите градусную меру угла C треугольника ABC , если угол AOB равен 115° .



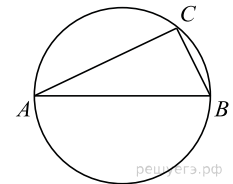
20.

Сторона AC треугольника ABC содержит центр описанной около него окружности. Найдите $\angle C$, если $\angle A = 75^\circ$. Ответ дайте в градусах.



21.

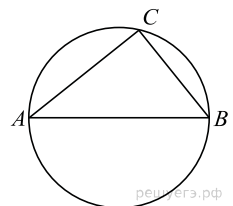
Центр окружности, описанной около треугольника ABC , лежит на стороне AB . Найдите угол ABC , если угол BAC равен 30° . Ответ дайте в градусах.



22. На окружности с центром в точке O отмечены точки A и B так, что $\angle AOB = 40^\circ$. Длина меньшей дуги AB равна 50. Найдите длину большей дуги AB .

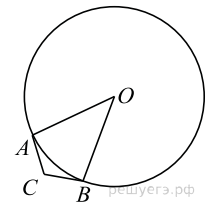
23.

Центр окружности, описанной около треугольника ABC , лежит на стороне AB . Найдите угол ABC , если угол BAC равен 44° . Ответ дайте в градусах.



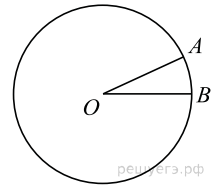
24.

В угол C величиной 157° вписана окружность, которая касается сторон угла в точках A и B , точка O — центр окружности. Найдите угол AOB . Ответ дайте в градусах.



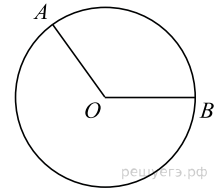
25.

На окружности с центром в точке O отмечены точки A и B так, что $\angle AOB = 18^\circ$. Длина меньшей дуги AB равна 5. Найдите длину большей дуги AB .



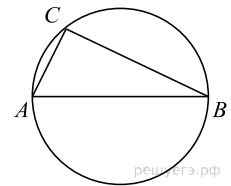
26.

На окружности с центром в точке O отмечены точки A и B так, что $\angle AOB = 122^\circ$. Длина меньшей дуги AB равна 61. Найдите длину большей дуги AB .



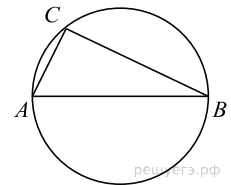
27.

Центр окружности, описанной около треугольника ABC , лежит на стороне AB . Радиус окружности равен 6,5. Найдите AC , если $BC = 12$

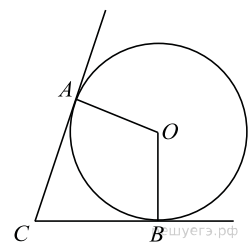


28.

Центр окружности, описанной около треугольника ABC , лежит на стороне AB . Радиус окружности равен 8,5. Найдите BC , если $AC = 8$.

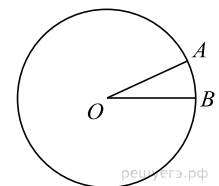


29. В угол C величиной 72° вписана окружность, которая касается сторон угла в точках A и B , точка O - центр окружности. Найдите угол AOB . Ответ дайте в градусах.



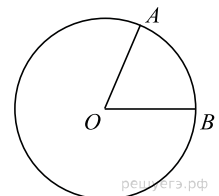
30.

На окружности с центром O отмечены точки A и B так, что $\angle AOB = 18^\circ$. Длина меньшей дуги AB равна 98. Найдите длину большей дуги.



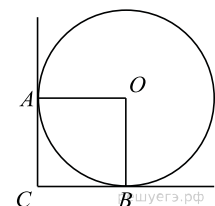
31.

На окружности с центром O отмечены точки A и B так, что $\angle AOB = 80^\circ$. Длина меньшей дуги AB равна 58. Найдите длину большей дуги.



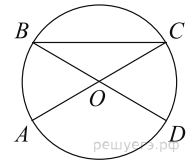
32.

В угол C величиной 90° вписана окружность, которая касается сторон угла в точках A и B , точка O - центр окружности. Найдите угол AOB . Ответ дайте в градусах.



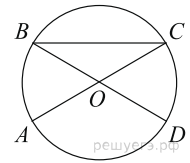
33.

AC и BD — диаметры окружности с центром O . Угол ACB равен 36° . Найдите угол AOD . Ответ дайте в градусах.

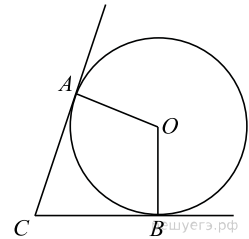


34.

AC и BD — диаметры окружности с центром O . Угол ACB равен 23° . Найдите угол AOD . Ответ дайте в градусах.

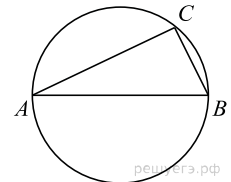


35. В угол C величиной 62° вписана окружность, которая касается сторон угла в точках A и B , точка O — центр окружности. Найдите угол AOB . Ответ дайте в градусах.



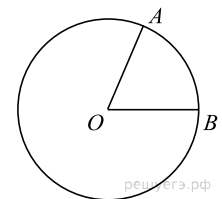
36.

Центр окружности, описанной около треугольника ABC , лежит на стороне AB . Найдите угол ABC , если угол BAC равен 33° . Ответ дайте в градусах.



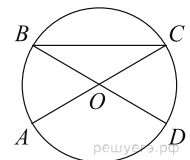
37.

На окружности с центром O отмечены точки A и B так, что $\angle AOB = 57^\circ$. Длина меньшей дуги AB равна 57. Найдите длину большей дуги.

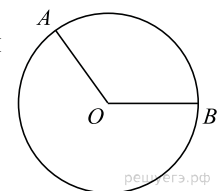


38.

AC и BD — диаметры окружности с центром O . Угол ACB равен 54° . Найдите угол AOD . Ответ дайте в градусах.

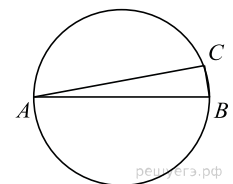


39. На окружности с центром O отмечены точки A и B так, что $\angle AOB = 120^\circ$. Длина меньшей дуги AB равна 67. Найдите длину большей дуги.



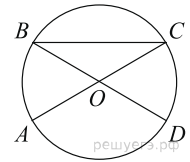
40.

Центр окружности, описанной около треугольника ABC , лежит на стороне AB . Найдите угол ABC , если угол BAC равен 9° . Ответ дайте в градусах.



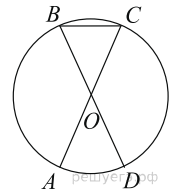
41.

AC и BD — диаметры окружности с центром O . Угол ACB равен 19° . Найдите угол AOD . Ответ дайте в градусах.



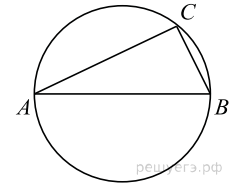
42.

AC и BD — диаметры окружности с центром O . Угол ACB равен 78° . Найдите угол AOD . Ответ дайте в градусах.

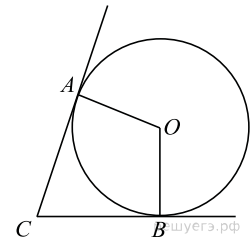


43.

Центр окружности, описанной около треугольника ABC , лежит на стороне AB . Найдите угол ABC , если угол BAC равен 24° . Ответ дайте в градусах.



44. В угол C величиной 71° вписана окружность, которая касается сторон угла в точках A и B , точка O — центр окружности. Найдите угол AOB . Ответ дайте в градусах.



45.

Треугольник ABC вписан в окружность с центром в точке O . Точки O и C лежат в одной полуплоскости относительно прямой AB . Найдите угол ACB , если угол AOB равен 153° . Ответ дайте в градусах.

